

# МИНИСТЕРСТВО НА ОБРАЗОВАНИЕТО, МЛАДЕЖТА И НАУКАТА

## Център за контрол и оценка на качеството на училищното образование

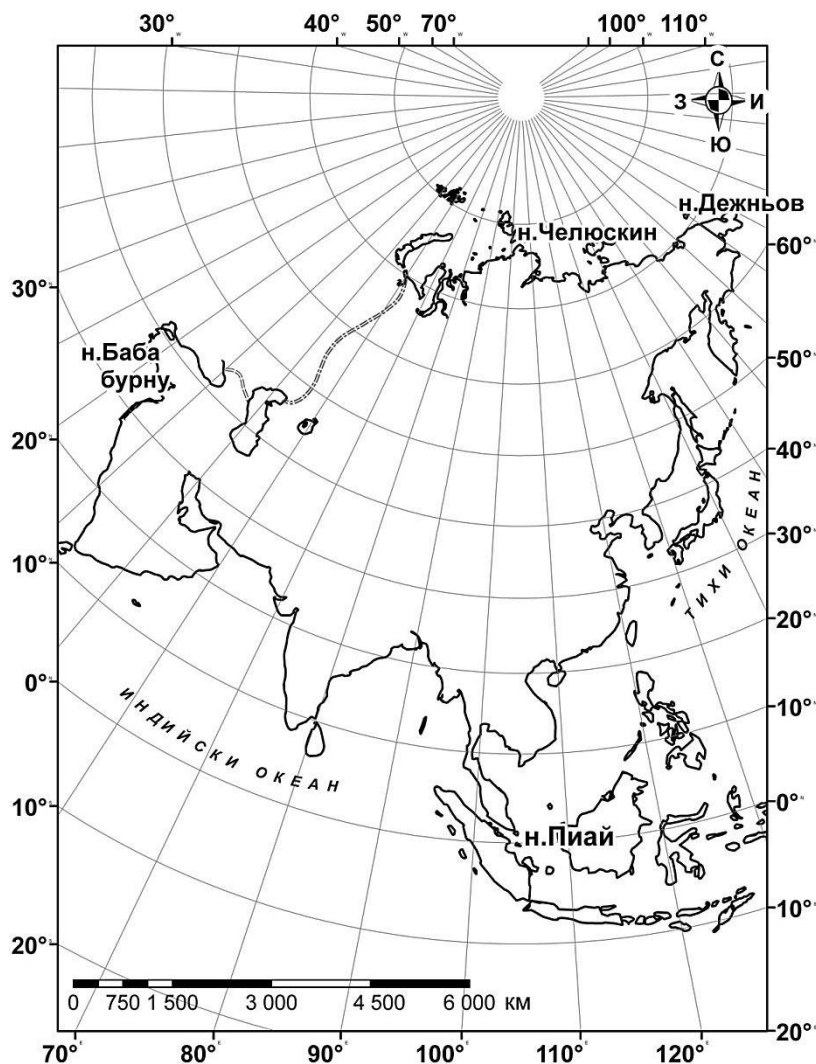
_____				(М)	(Ж)	(Б)	(Т)	(Р)	(Д)
№ в клас	трите имена	пол	(език, на който най-често се говори в семейството)						

### ВЪНШНО ОЦЕНЯВАНЕ ПО КУЛТУРНО-ОБРАЗОВАТЕЛНА ОБЛАСТ „ОБЩЕСТВЕНИ НАУКИ, ГРАЖДАНСКО ОБРАЗОВАНИЕ И РЕЛИГИЯ ” VII клас

#### ГЕОГРАФИЯ И ИКОНОМИКА

##### Първа част

1. С помощта на картата определете на коя крайна точка на Азия са координатите:  $1^{\circ}$  с.ш. и  $103^{\circ}$  и.д.?



- А) нос Баба(бурну)
- Б) нос Пиай
- В) нос Дежньов
- Г) нос Челюскин

**2. В коя част на Азия се намират обектите: Памир, Тяншан, Тибетска планинска земя, пустинята Гоби?**

- А) Северна Азия
- Б) Западна Азия
- В) Централна Азия
- Г) Южна Азия

**3. Кои са причините голяма част от реките в Азия да имат лятно пълноводие?**

- А) арктичните и тропичните въздушни маси
- Б) топлите и студените морски течения
- В) снеготопенето и западните ветрове
- Г) летните мусони и снеготопенето

**4. Кои територии в Азия са най-рядко населени?**

- А) устията на реките, промишлените центрове, равнините
- Б) тропичните пустини, полярните райони, високите планини
- В) екваториалните области, големите градове, островите
- Г) крайбрежията, земеделските райони, столичните градове

**5. Коя е причината за увеличаване на населението в Азия с над 900 милиона души през последните 20 години?**

- А) преселническите вълни
- Б) икономическият напредък
- В) високата раждаемост
- Г) високата смъртност

**6. Производството на коя култура в Азия е показано на илюстрацията?**

- А) ориз
- Б) чай
- В) кафе
- Г) памук



**7. Коя е причината температурата на водата на Индийския океан да е най-ниска в южните му части?**

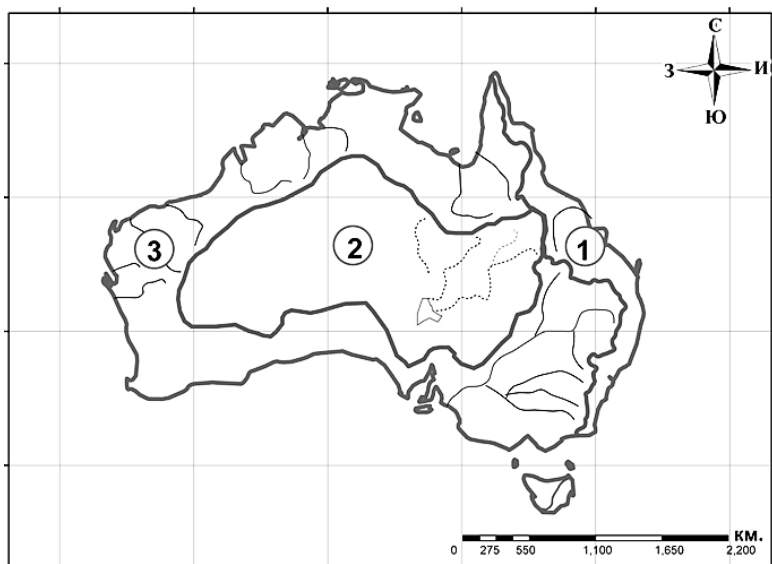
- А) географското положение
- Б) подводният релеф
- В) мусонната циркулация
- Г) вливащите се реки

**8. Кой климатичен пояс се среща във всички северни континенти, но в нито един от южните: Австралия, Южна Америка и Африка?**

- А) субекваториален
- Б) тропичен
- В) субтропичен
- Г) субполярен

**9. Коя отточна област в Австралия е означена с цифра 2 на картосхемата?**

- А) към Индийския океан
- Б) към Тихия океан
- В) към Южния океан
- Г) вътрешноотточна и безотточна



**10. Като имате пред вид информацията от таблицата, определете кой австралийски щат даден в нея има най-голяма средна гъстота на населението?**

Административни единици	Площ (в хил. km <sup>2</sup> )	Население (в хил. д.)
Виктория	237	5022
Нов Южен Уелс	809	6764
Тасмания	90	489
Южна Австралия	1 043	1540

- А) Виктория
- Б) Нов Южен Уелс
- В) Тасмания
- Г) Южна Австралия

11. На кое изображение от 1 до 4 има представител на коренното (местното) австралийско население?



1



2



3



4

- A) 1
- Б) 2
- В) 3
- Г) 4

12. Кой изследовател пръв прекосява Тихия океан по време на своето околосветско плаване?

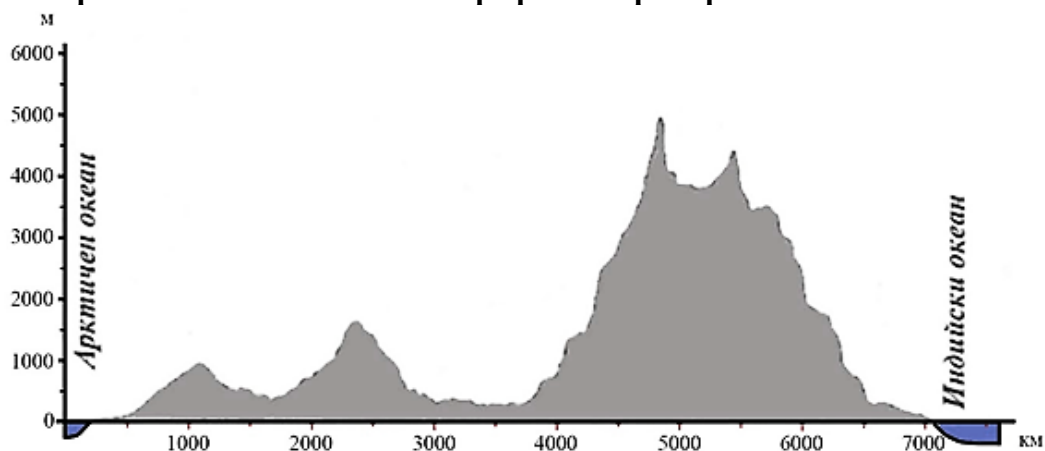
- A) Вашку да Гама
- Б) Фернандо Магелан
- В) Абел Тасман
- Г) Миклухо Маклай

13. Коя е причината Антарктида да е най-студеният континент?

- A) географското положение
- Б) произходът на континента
- В) изтъняването на озоновия слой
- Г) влиянието на океански течения

### Втора част

14. Определете и запишете приблизително на каква надморска височина се намира най-високата точка на профила на релефа.



Отговор: .....

**15. Определете и запишете името на животното, което живее в зоната на тундрата и тайгата в Азия.**



Отговор: .....

**16. На коя държава в Океания коренните жители са маорите?**

Отговор: .....

## **ИСТОРИЯ И ЦИВИЛИЗАЦИЯ**

### **Първа част**

**1. Коя е правилната последователност на човешките видове?**

- А) Неандерталец, Изправен човек, Сръчен човек
- Б) Сръчен човек, Неандерталец, Изправен човек
- В) Изправен човек, Сръчен човек, Неандерталец
- Г) Сръчен човек, Изправен човек, Неандерталец

**2. Кой народ е създал известните градове-държави Ур, Урук и Лагаш?**

- А) шумерите
- Б) ахейците
- В) финикийците
- Г) евреите

**3. В коя група има само богове, почитани от древните египтяни?**

- А) Мардук, Енлил, Амун
- Б) Озирис, Изида, Анубис
- В) Юпитер, Озирис, Сет
- Г) Хор, Аполон, Посейдон

**4. На коя древна цивилизация принадлежи този стенопис?**

- А) минойската
- Б) египетската
- В) тракийската
- Г) римската



**5. Спарта и Атина воювали за надмощие в елинския свят от 431 до 404 г. пр.Хр. На кой век съответстват тези години?**

- А) VI в. пр.Хр.
- Б) V в. пр.Хр.
- В) IV в. пр.Хр.
- Г) III в. пр.Хр.

**6. Походът на кой известен военачалник е показан на картата?**

- А) Дарий I
- Б) Ксеркс
- В) Филип II
- Г) Алкивиад



**7. С кой предмет трябва да бъде допълнено изображението на Вълчитрънското съкровище?**

А)



Б)



В)



Г)



**8. Кой древен народ нямал своя писменост?**

- А) евреите
- Б) римляните
- В) траките
- Г) шумерите

**9. В кой град се е намирала най-голямата елинистическа библиотека?**

- А) Александрия
- Б) Пела
- В) Атина
- Г) Вавилон

**10. За отношенията в кое общество разказва текстът?**

*„Патроните били длъжни да тълкуват законите на своите клиенти, тъй като те били неуки... да се грижат за тях както баща за своите деца. Клиентите били длъжни да откупуват своите патрони от неприятеля... да заплатят със собствени пари сумите, дължими от техните патрони...”*

**Дионисий Халикарнаски, (I в. пр. Хр.)**

- А) еврейското
- Б) римското
- В) елинското
- Г) тракийското

**11. През кой век в Рим било поставено началото на републиканското управление?**

- А) VIII в. пр.Хр.
- Б) VII в. пр.Хр.
- В) VI в. пр.Хр.
- Г) V в. пр.Хр.

**12. Кой имал право да налага вето над решенията на Сената в Рим?**

- А) консулт
- Б) преторът
- В) цензорът
- Г) трибунът



**13. В коя древна държава като изключение на монархическия принцип има двама царе?**

- А) Рим през царския период
- Б) Спартанския полис
- В) Асирийската империя
- Г) Новото Египетско царство

**Втора част**

**14. Прочетете историческия източник и отговорете на въпросите:**

*„Ние обичаме изяществото, съчетано с простота; обичаме и култивираме образованието, без да изнежваме и разглезваме духа. ... Нашите граждани се грижат с еднакво усърдие както за своите домашни, тъй и за обществените дела. ... И само ние вземаме решения по въпросите, като се стараем да ги обмислим правилно. ... Ние се отличаваме още и с тази особеност, че съчетаваме у себе си най-голямата смелост с умението да обмисляме онези дела, които възнамеряваме да предприемем.“*

**Из „История на Пелопонеската война”, Тукидид,**

**(V в. пр.Хр.)**

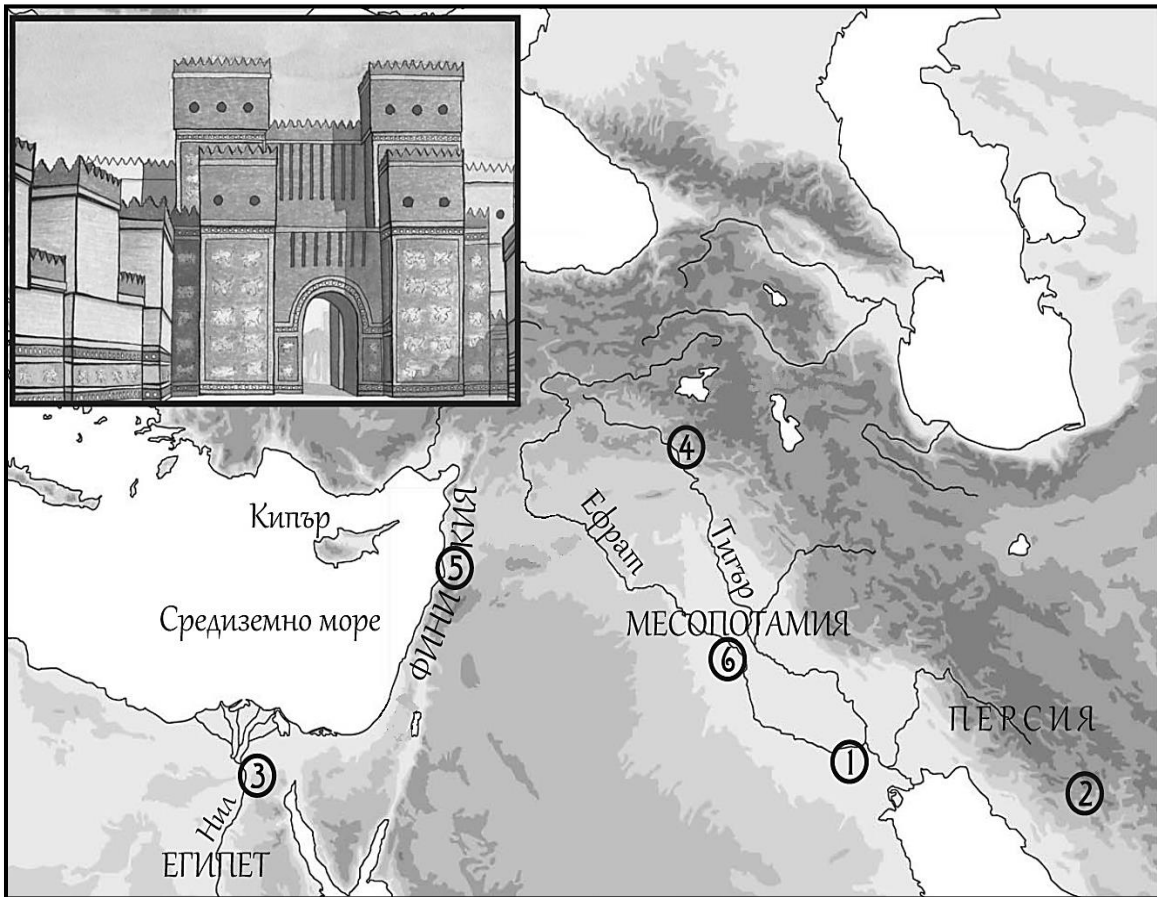
А) За кой полис се отнася описанието?

**Отговор:**.....  
.....

Б) Как, според автора, гражданите решавали въпросите на полиса?

**Отговор:**.....  
.....

15. Разгледайте изображението и картата. Отговорете на поставените въпроси.



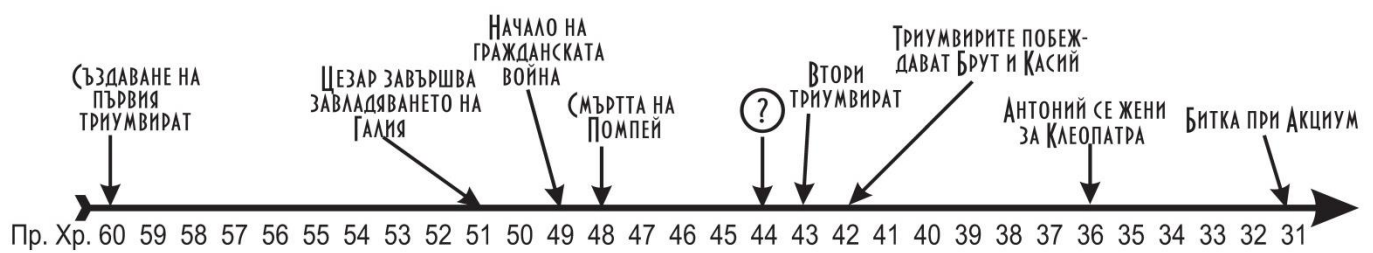
А) Кой паметник на древна цивилизация е на изображението?

Отговор:.....  
 .....

Б) С коя цифра на картата е отбелязан градът, където той е бил построен?

Отговор:.....

16. Кое събитие е отбелязано с въпросителен знак на линията на времето?



Отговор:.....  
 .....

**МИНИСТЕРСТВО НА ОБРАЗОВАНИЕТО, МЛАДЕЖТА И НАУКАТА**  
**Център за контрол и оценка на качеството на училищното образование**  
**ВЪНШНО ОЦЕНЯВАНЕ ПО КУЛТУРНО-ОБРАЗОВАТЕЛНА ОБЛАСТ**  
**„ОБЩЕСТВЕНИ НАУКИ, ГРАЖДАНСКО ОБРАЗОВАНИЕ И РЕЛИГИЯ ”**  
**VII клас**

***ГЕОГРАФИЯ И ИКОНОМИКА***

**Първа част:**

**Задача от 1 до 13.**

**Ключ за верните отговори**

<b>ЗАДАЧА №</b>	<b>ОТГОВОР</b>	<b>БРОЙ ТОЧКИ</b>
1.	Б	1
2.	В	1
3.	Г	1
4.	Б	1
5.	В	1
6.	А	1
7.	А	1
8.	Г	1
9.	Г	1
10.	А	1
11.	А	1
12.	Б	1
13.	А	1

**Втора част:**

**Задача от 14 до 16.**

<b>ЗАДАЧА №</b>	<b>ОТГОВОРИ</b>	
14.	Верен отговор: 4800, 4900, 5000, 5100, 5200, 5300 м надморска височина Частично верен отговор: от 5400 м до 6000 м надморска височина;	<b>2</b>
15.	Верен отговор: елен, северен елен, лос Частично верен отговор: няма	<b>2</b>
16.	Верен отговор: Нова Зеландия Частично верен отговор: няма	<b>1</b>

## ИСТОРИЯ И ЦИВИЛИЗАЦИЯ

VII клас

### Първа част:

Задача от 1 до 13.

#### Ключ с верните отговори

ЗАДАЧА №	ОТГОВОР	БРОЙ ТОЧКИ
1.	Г	1
2.	А	1
3.	Б	1
4.	А	1
5.	Б	1
6.	Б	1
7.	Г	1
8.	В	1
9.	А	1
10.	Б	1
11.	В	1
12.	Г	1
13.	Б	1

### Втора част

Задача от 14 до 16.

ЗАДАЧА №	ОТГОВОРИ	БРОЙ ТОЧКИ	МАКСИМАЛЕН БРОЙ ТОЧКИ
14.	А) Атинския полис; Атина	1	2
	Б) като ги обмисляли правилно; решенията се вземали след старателно обмисляне; с обмисляне	1	
15.	А) Портата на Ищар, Вратата на Ищар	1	2
	Б) 6, ⑥	1	
16.	убийството на Цезар; смъртта на Цезар; заговор срещу Цезар	1	1

Максимален брой точки на теста по *История и цивилизация*: 18