



МИНИСТЕРСТВО НА ОБРАЗОВАНИЕТО И НАУКАТА
РЕГИОНАЛЕН ИНСПЕКТОРАТ ПО ОБРАЗОВАНИЕТО - БУРГАС

ОЛИМПИАДА ПО ГЕОГРАФИЯ И ИКОНОМИКА - ОБЩИНСКИ КРЪГ - 20. 12. 2014 г.
/VI клас /

Уважаеми ученици,

За изпълнението на изпитната работа по география и икономика са определени **2 часа /120 минути/**. Включени са **30 задачи** с различен тип отговори. Пропуснат или сгрешен отговор се оценява с 0 /нула/ точки. Верният отговор отбележете с **“Х”** само със **син химикал**. **Не се допускат задрасквания и поправки**. По време на изпита **не може** да ползвате помагала или пособия, освен предоставената ви изпитна бланка.

Успешна работа!

Трите имена..... Клас.....

Училище..... Град.....

1. Кой учен създава известната хипотеза за „дрейфа на континентите“ ?

- а) А. Хумболт;
- б) А. Вегенер;
- в) Н. Коперник;
- г) Д. Ливингстън.

2. Кое от изброените НЕ е характерно за териториите между две литосферни плочи?

- а) вулканична дейност;
- б) образуване на нова земна кора;
- в) липса на земетресения;
- г) образуване на големи планински вериги.

3. Ако пътувате с кораб от Индийския океан към Средиземно море през кой от посочените обекти НЯМА да минете?

- а) Червено море;
- б) Суецки канал;
- в) Персийски залив;
- г) Баб ел Мандебски проток.

4. Посочете ГРЕШНОТО твърдение:

- а) Христофор Колумб заобикаля Африка и плава в Индийския океан;
- б) Средиземноморското крайбрежие на Африка е описано от финикийците, римляните и гърците;
- в) Дейвид Ливингстън изследва вътрешните части на континента Африка;
- г) Езерата Виктория и Едуард са изследвани от Хенри Стенли.

5. Според релефа континента Африка се разделя на Северозападна (ниска) и Югоизточна (висока) Африка. В Северозападна Африка се простира младонагънатата верижна планина с височина над 4000 м. Коя е тя?

- а) Ахагар;
- б) Гвинейска планинска земя;
- в) Атласки планини;
- г) Драконови планини.

6. Кои форми на релефа са образувани от външните земни сили?

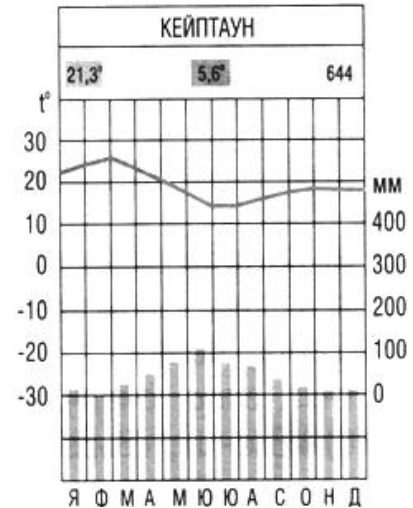
- а) пустинята Намиб;
- б) вулканът Камерун;
- в) езерото Танганика;
- г) Драконови планини.

7. Кое океанско течение оказва влияние при формирането на климата по югоизточното крайбрежие на Африка?

.....

8. Запишете името на климатичния пояс на Африка, за който се отнася посочената климатограма.

.....



9. За кой климатичен пояс в Африка се отнася характеристиката: „Разположен е на север и на юг от Екватора, отличава се с високи дневни температури и големи денонощни температурни амплитуди. Валежите са минимални, с изключение на югоизточното крайбрежие.“

.....

10. Коя от особеностите се отнася само за водите на Африка?

- а) голяма отточна област към Атлантическия океан;
- б) дълги и пълноводни реки;
- в) обширна безотточна област;
- г) най-голямото високопланинско езеро в света.

11. Попълнете липсващото в таблицата.

Население	Територии, които населява
1.	Пустиня Калахари
пигмеи	2.
3.	Остров Мадагаскар
4.	Атласки планини и Сахара

12. Ако сте търговец, какво ще внесете у нас от Египет?

- а) фъстъци;
- б) ориз;
- в) памук;
- г) пшеница.

13. Коя държава не е имала владения в Африка по време на колониалната епоха?

- а) Франция;
- б) Холандия;
- в) Русия;
- г) Великобритания.

14. Коя е най-младата африканска държава, обявила своята независимост на 9 юли 2011 година?

- а) Северна Уганда;
- б) Еритрея;
- в) Малави;
- г) Южен Судан.

15. Кое от изброените морета НЕ е част от Атлантическия океан?

- а) Берингово;
- б) Саргасово;
- в) Карибско;
- г) Северно.

16. Кое от теченията в Атлантическия океан е студено?

- а) Гълфстрийм;
- б) Бенгалско;
- в) Бразилско;
- г) Севернопасатно.

17. Къде в Южна Америка се разкриват находища на скъпоценни камъни и злато?

- а) в Патагония;
- б) в Бразилската планинска земя;
- в) в низината на река Ориноко;
- г) в Амазония.

18. “Уадите” представляват:

- а) големи притоци на р. Нил;
- б) сухи речни долини;
- в) вид каменисти пустини;
- г) големи разломи.

19. Рораима е:

- а) голяма низина в южната част на континента Южна Америка;
- б) река от басейна на р. Парана;
- в) вид палма в екваториалните гори;
- г) най-високият връх на Гвианска планинска земя.

20. Посочете причините, поради които в най-южната част на субтропичния пояс по западното крайбрежие на Южна Америка климата е по-сух и хладен, отколкото на изток:

- а) планината Анди и студено океанско течение;
- б) тропични въздушни маси и югоизточни пасати;
- в) топло океанско течение и равнинен релеф;
- г) южни ветрове и умерени въздушни маси.

21. Като знаете, че площта на остров Мадагаскар е около 600 000 кв. км., а населението е 18 000 000 души, изчислете средната гъстота.

.....
22. Селитрата добивана в Чили се използва в:

- а) промишлеността за производство на електроенергия;
- б) земеделието, като минерални торове;
- в) транспорта за гориво;
- г) туризма, като туристическа атракция.

23. Срещу океана запишете цифровия код на островите, които се намират в него.

Тихи.....

Атлантически.....

Индийски.....

1. Сейшелски острови

2. острови Галапагос

3. Фолкландски острови

4. Канарски острови

5. остров Мадагаскар

6. остров Тринидад

7. Антилски острови

8. Азорски острови

9. Коморски острови


10. остров Чилое

24. На картата на Африка нанесете със стрелки посоката на движение на пасатите.

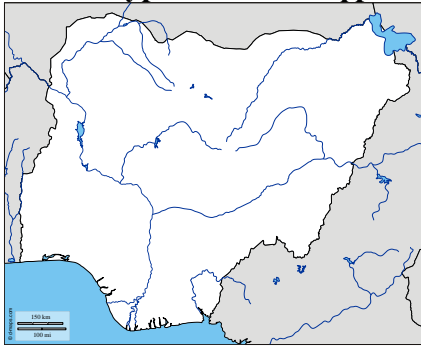


25. Попълнете кръстословицата:

1. Животно, което можете да видите само на остров Мадагаскар.
2. Езеро в Южна Америка.
3. Най-ниските хора на Земята.
4. Столицата на Нигерия
5. Най-пълноводната река в Африка.
6. а) Горизонтално: Проток, свързващ Атлантическия и Тихия океан.
б) Отвесно: Остров, образуван от наносите на река Амазонка.
7. Най-високия връх в Африка.
8. Най-високия водопад на Земята.
9. Плодовете на финиковата палма.



26. Контурите на коя африканска държава са изобразени на картата?



.....

27. С помощта на снимките направете изводи коя планина е изобразена и в кой континент се намира?



а)



б)

Планина.....
Континент.....

Планина.....
Континент.....

28. Означете със знак „+“ верните, а със знак „-“ – грешните твърдения.

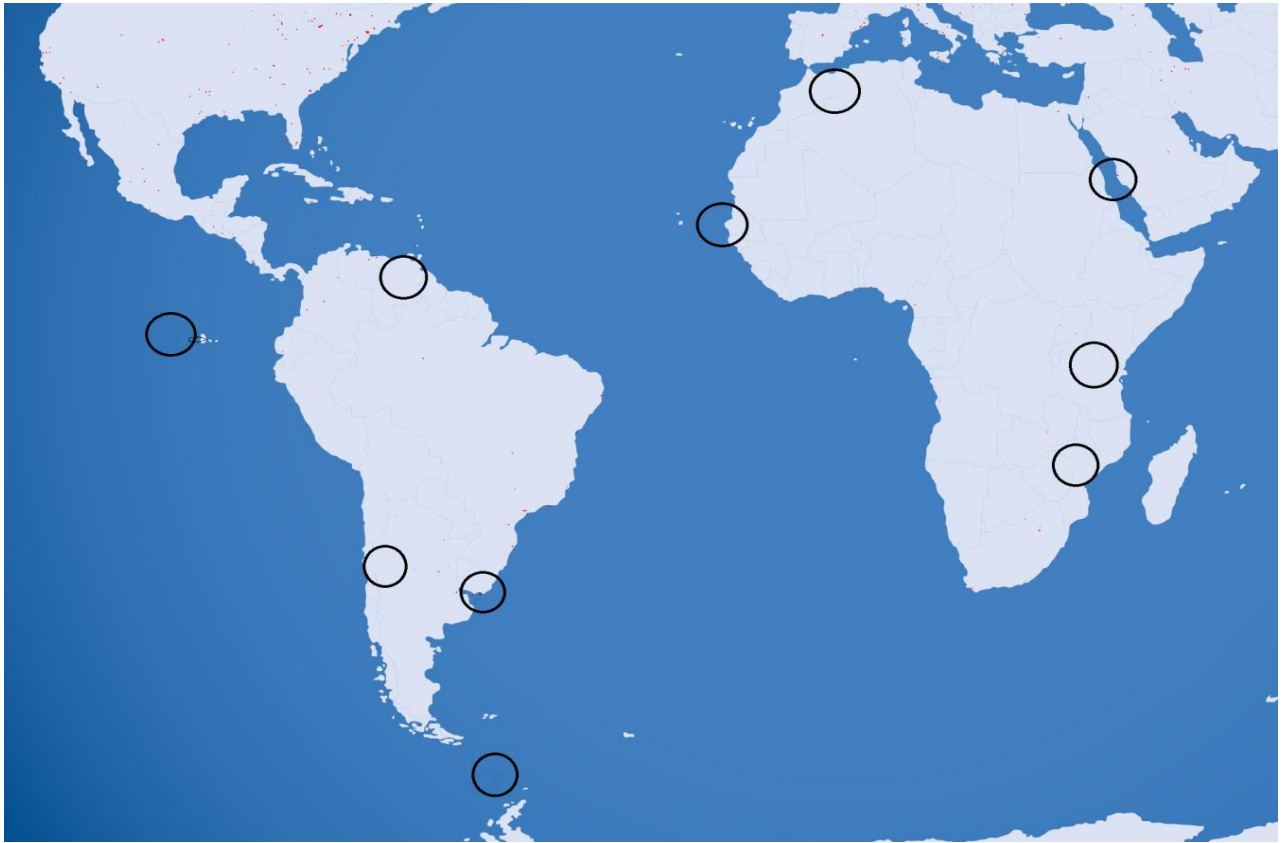
- а) Най-богатите находища на диаманти са в Атласките планини.
- б) Големи находища на нефт и природен газ има в Сахара, устието на р. Нил и крайбрежието на Гвинеийския залив.
- в) Големи находища на фосфорити има на о. Мадагаскар.
- г) По-силно застъпен е добивът, а по-слабо – преработката на полезните изкопаеми.

29. Защо р. Нил има сложен режим?

- а) защото пресича Екватора;
- б) защото се влива с обширна делта в Средиземно море;
- в) защото протича през различни климатични пояси;
- г) защото има многобройни притоци в долното си течение.

30. На контурната карта с цифровите кодове от 1 до 10 нанесете посочените географски обекти:

- | | |
|--------------------|----------------------------|
| 1. Атласки планини | 6. устието на река Замбези |
| 2. залив Ла Плата | 7. Червено море |
| 3. връх Аконкагуа | 8. устието на река Ориноко |
| 4. нос Алмади | 9. о-ви Галапагос |
| 5. връх Ухуру | 10. проток Дрейк |



Попълва се от квесторите:

.....
Име и фамилия на квесторът приел работата *подпис*

Комисия по проверка и оценка:

1...../...../

2...../...../

Брой точки:.....